

بنك الاسئلة

في مجال :

التاريخ

لصف الثاني عشر(أدبي) الثانوي

للعام الدراسي ٢٠١٦/٢٠١٧

الفصل الدراسي الأول

دولة الكويت

وزارة التربية

منطقة العاصمة التعليمية

ثانوية عيسى الحمد للبنين



النهضة الأوربية

افتح الكتاب المدرسى من ص ١١ - حتى ص ١٣ - ثم اجب عن الأسئلة التالية

أولاً : اكتب فيما بين القوسين المدلول المناسب لكل مما يأتى

١ - (.....) تلك العصور التى تبدأ منذ سقوط روما عام ٤٧٦ م

حتى الفتح العثمانى للقسطنطينية عام ١٤٥٣ م

٢ - (.....) الفترة التى عاشتها أوروبا قبل سطوع شمس النهضة

٣ - (.....) هى تلك الحركة التى انتقلت من ايطاليا الى كافة أنحاء أوروبا بهدف

اكتشاف الذات وأحياء الأمجاد القديمة فى جميع المجالات

٤ - (.....) هى المرحلة الانتقالية من العصور الوسطى إلى العصور الحديثة

(يؤرخ لها من الفتح العثمانى للقسطنطينية عام ١٤٥٣ م)

ثانياً : اكتب فيما يلى (أهم مميزات العصور الوسطى)

- ١ -
- ٢ -
- ٣ -
- ٤ -

ثانياً : علل

(تقسيم المجتمع الاوربى الى مجتمع طبقى فى العصور الوسطى)

رابعاً : اكتب مذكرات عن (طبقات المجتمع الاوربى فى العصور الوسطى)



خامساً : ما الفرق بين :

نتائج أسبقية ايطاليا للنهضة	أسباب وعوامل أسبقية ايطاليا للنهضة
١	١
٢	٢
٣	٣
٤	٤

افتح الكتاب المدرسى من ص ١٤ - حتى ص ١٦ ثم اجب عن الاسئلة التالية

أولاً : دلل على صدق العبارة

(ساهمت الحضارة العربية الاسلامية بدور عظيم فى قيام النهضة الاوربية)

ثانياً : أذكر عوامل قيام النهضة الاوربية

١

ثالثاً : أذكر اهم مراكز الحضارة العربية الاسلامية

١

٤

٣

٢

رابعاً : اكتب ما تعرفه عن (احياء الدراسات القديمة)

حتى عام

من عام

الفترة الزمنية

ب - علل بذل المفكرون الاوربيون جهداً كبيراً فى احياء الدراسات القديمة

: اذكر جهود العلماء والمفكرون الاوربيون فى احياء الدراسات القديمة

١

٢

٣

٤

خامساً : اكتب اهم خطوات نمو المدن الاوربية :

١

٢

٣

سادساً : عرف ما يلى :

١ - الكومانات

٢ - البرجوازية



اسم الشخصية /

(١) ما هي جنسيته : _____

(٢) أكتب فقرة مناسبة عن أهم أعماله

عدد نتائج اختراع الطباعة على يد حنا جوتنبرج :

١ - ٢ -

تاسعاً : لاحظ خريطة قارة أوروبا الصماء ثم اكتب داخل الدائرة الرقم المناسب لكل عبارة من العبارات التي تلى الخريطة

الرقم (١) اسبق دول أوروبا للنهضة الأوروبية

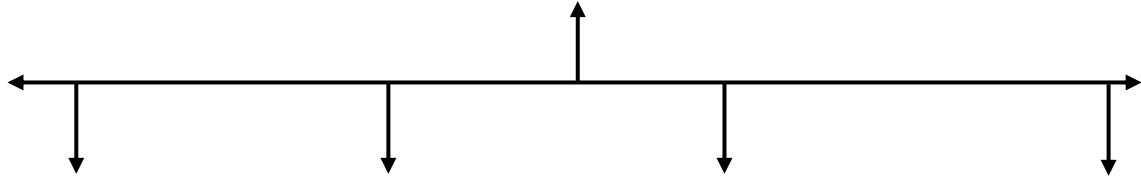
- الرقم (٢) اسبق دول أوروبا للصورة الصناعية - الرقم (٤) الدولة التي حمل جنسيتها جاك كارتية

- الرقم (٣) اسبق دول أوروبا للكشوف الجغرافية - الرقم (٥) الدولة التي حمل جنسيتها مارتن لوثر

(المظاهر الأدبية والفنية)

افتح الكتاب المدرسى المدرسى من ص ١٧ - حتى ص ١٩ صم اجب الاسئلة التالية

أولاً : اكمل المخطط التالى : (أهم مظاهر النهضة الاوربية)



ثانياً : علل اهتم ادباء النهضة بدراسة الانسان باعتباره محور الحياة

ثالثاً : اكتب فيما بين القوسين المدلول المناسب لكل مما يلى

١- (-----) مجموعة من الأدباء عبروا فى كتاباتهم الادبية عن صورة الانسان الذى

يتصف بالابداع والثقة بالنفس والمحبة للحياة بجوانبها المشرقة

٢- (-----) اهم شعراء ايطاليا

- له قدرة فائقة على الوصف والتحليل

- يتميز بسمو الأفكار وحيوية الخيال

- اهم اعماله (الكوميديا الالهية والحياة الجديدة)

- تآثر بقصة المعراج ورسالة الغفران لأبى العلاء المعرى

٣- (-----) اهم فنانى ايطاليا

- ولد فى بلدة فنشى بالقرب من فلورنسا

- كان متعدد المواهب

- نبغ فى الرسم والنحت والتصوير والعمار والرياضة والهندسة والادب والموسيقى

والتشريح اهم اعماله (العشاء الاخير والموناليزا . أو (الجيوكوندا) من متحف اللوفر)

يلقب بـ (عبقرى النهضة)

رابعاً : علل ازدهار الحركة الفنية فى عصر النهضة :

خامساً : أذكر اهم مميزات الفن فى عصر النهضة (كانت الفنون من أبرز معالم الحياة فى أوروبا فى عصر النهضة)

دوناتللو / مايكل انجلو / روفائيل / بوكاسيو / ارازموس

المجال	الشخصية
المظاهر الادبية (الانسانيين)	١- _____
	٢- _____
	٣- _____
	٤- _____
المظاهر الفنية	العمارة

	النحت
	١- _____
	٢- _____
	التصوير
١- _____	
٢- _____	


سادساً : انظر جيداً إلى الصورة المقابلة ثم اجب عن الاسئلة التالية :



١ - من هو صاحب الصورة

(-----)

٢ - اكتب فقرة مناسبة من اهم اعماله



حركة الاصلاح الدينى

افتح الكتاب المدرسى من ص ٢٠ - حتى ص ٢٢ - ثم اجب عن الاسئلة التالية :

أولاً : أذكر اهم المطالب التى نادى بها المفكرون فى عصر النهضة :

- ١- _____
- ٢- _____

ثانياً : أذكر أسباب قيام حركة الاصلاح الدينى :

- ١- _____ ٢- _____
- ٣- _____ ٤- _____

ثالثاً : انظر جيداً إلى الصورة المقابلة ثم اجب عن الاسئلة التالية :



١- من هو صاحب الصورة ؟

(_____)

٢- من هى جنسيته ؟

(_____)

٣- اكتب اهم اعماله ؟

_____ ٤- تاريخ قيام الحركة ؟

٥- عدد الحجج التى نشرها ؟

٦- اهم المطالب التى نادى بها

(١) _____

(٢) _____

(٣) _____

(٤) _____

(٥) _____

٦- اهم نتائج حركة مارتن لوثر (حركة الاصلاح الدينى)

_____ *

_____ *

_____ *

*

رابعاً / عرف المقصود بـ (صكوك الغفران)

(لم تكن الحياة السياسية بمعزل عن التطورات الادبية والفنية والدينية خلال عصر النهضة)



ثانياً : انظر جيداً للصورة المقابلة ثم أجب عن الاسئلة التالية

١ - من هو صاحب الصورة ؟

(-----)

٢ - من هي جنسيته ؟

(-----)

٣ - اكتب فقرة مناسبة عن اهم اعماله ؟

١ - عاش فى مدينة فلورنسا بايطاليا

٢ - تولى كثيراً من المناصب السياسية (سفير)

٣ - تفرغ للكتابة السياسية بعد انهيار الحكومة الفلورنسية

اهم مؤلفاته

كتاب (-----) الذى شرح فيه أصول الحكم وفن السياسة

أهم آرائه

١ - تاييد نظام الحكم المطلق القائم على نظرية الحق الالهى

٢ - اقرار مبدأ الغاية تبرر الوسيلة

ثالثاً : أكتب فيما بين القوسين المدلول المناسب لكل مما يلى :

١ - (-----) نظرية تقول بأن الملوك يمثلون الله على الارض ويستمدون سلطتهم منه

وليس من الشعوب

٢ - (-----) مبدأ يقر احقية الحاكم فى اتخاذ كل وسيلة تحقق استقرار حكمه

حتى لو تعارضت مع الدين والاخلاق

رابعاً : فند آراء نيقولا ميكافيللى

حركة الكشوف الجغرافية

افتح الكتاب المدرسى من ص ٢٠ - حتى ص ٢٢ - ثم اجب عن الاسئلة التالية

أولاً : اكتب فيما بين القوسين المدلول المناسب لكل مما يلى

١ - (-----) حركة قام بها الاوربيون تعرفوا بها على اراضى جديدة فى المعمورة

وساعدت على تطوير خريطة العالم

٢ - (-----) اصطلاح أطلق على حاجة الاوربيين الى المزيد من الذهب والفضة

٣ - (-----) سفينة عملاقة ابتكرها الاوربيون تميزت بكبر حمولتها وتعدد

اشرعتها وقدرتها الكبيرة على المغامرة وسط المحيطات

ثانياً : أمامك خريطة صماء للعالم حدد عليها أهم طرق التجارة القديمة قبل حركة الكشوف الجغرافية

ثالثاً : ١) الشكل المقابل يمثل سفينه أسمها : -----

٢) الشكل المقابل يمثل آلة فلكية أسمها : -----

خامساً :صنف قائمة الاسباب والدوافع التالية بما يناسبها حسب الجدول :

* (الرغبة فى زيادة المعلومات الجغرافية / ظهور روح البحث العلمى / تقدم علم الفلك
استخدام البوصلة والاسطرلاب / التوصل الى بناء سفن عملاقة مثل كارافيل)
* (نمو للروح القومية / السيطرة على بقاع جديدة / تكوين امبراطوريات ضخمة نشر النفوذ والمبادئ
الخاصة بها)

* (نشر المسيحية فى المناطق المكتشفة / تطويق العالم الاسلامى / تقوية الممالك المسيحية)

* (البحث عن التوابل / تخطى الوساطة التجارية الاسلامية / السيطرة على طرق التجارة / الوصول الى منابع
التجارة الاسيوية والافريقية / البحث المباشر عن مناجم الذهب والفضة / الازمة الاقتصادية بعد حروب القرن
الخامس عشر / السيطرة على اراضى جديدة لايبوء الاعداد الزائدة عن حاجة السكان)

نوع الدافع	الاسباب
الدافع الاقتصادى	*
	*
	*
	*
	*
الدافع الدينى	*
	*
	*
الدافع القومى	*
	*
	*
	*
الدافع العلمى والملاحى	*
	*
	*
	*
	*

س : اذكر السبب المباشر لقيام حركة الكشوف الجغرافية

الدليل التاريخي

الكشوف البرتغالية فى العالم

خريطة

افتح الكتابا لمدرسى من ص ٢٧ - حتى ص ٣٠ ثم اجب عن الاسئلة التالية

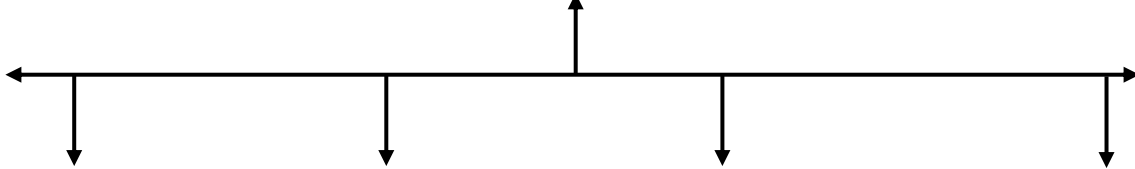
اولاً : اكتب فيما بين القوسين المدلول المناسب لكل مما يلى :

١ - (-----) أول الشعوب الاوربية فى مجال النهضة

٢ - (-----) أول الشعوب الاوربية فى مجال الكشوف الجغرافية

ثانياً : اذكر العوامل التى ساعدت البرتغاليين على الاسبقية فى مجال الكشوف والوصول للهند .

ثانياً : أكمل المخطط التالى : (اهم مراحل رحلات الكشوف البرتغالية)



ثالثاً : أمامك خريطة لإحدى رحلات الكشوف الجغرافية لاحظها جيداً ، ثم اجب عن الاسئلة التالية

✽ اسم الرحالة -----

✽ اسم الملك الذى احتضن الرحلة -----

اهم اعماله -----

✽ اسم الرحالة -----

اهم الانجازات

٤ - قسر تسمية الملك جون الثانى رأس الرجاء الصالح بدلاً من رأس العواصف

رابعاً : أمامك خريطة لرحلات حركة الكشوف الجغرافية لاحظها جيداً ثم أجب عن الاسئلة التالية

✽ اسم الرحالة -----

✽ اسم الملك الذى احتضن الرحلة

اهم الانجازات

خامساً : اذكر اهم نتائج رحلة فاسكودى جاما

(١) اسم الرحلة

(٢) الجنسية الاصلية

(٣) الدولة راعية الرحلة

(٤) اهم الانجازات

علل تسمية امريكا بهد الاسم

افتح الكتاب المدرسى من ص ٣١ - حتى ص ٣٦ - ثم اجب عن هذه الاسئلة التالية :

أولاً : انظر جيداً إلى الصورة المقابلة ثم اجب عن الاسئلة التالية

(١) من هى صاحبة هذه الصورة ؟

(.....)

(٢) ما هى جنسيتها

(.....)

(٣) أهم اعمالها

(١) من هو صاحب هذه الصورة ؟

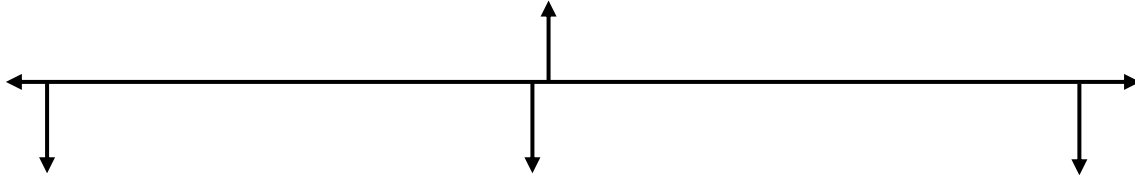
(.....)

(٢) ما هى جنسيته

(.....)

٣) المشروع الذى اقترحه

ثانياً : أكمل المخطط التالى (أهم مراحل رحلات الكشوف الاسبانية)



١) اسم الرحلة ----- ٢) اسم الملك الذى احتضن الرحلة -----

٣) اهم الانجازات -----

رابعاً : أكمل المطلوب فى الجدول التالى بوضع الكلمة المناسبة :

الرحلة	السنة	النتيجة
		اكتشاف جزر الانتيل " سان سلفادور الحالية - كوبا - هايتى
		جزر الدومينيكان - سانت كروز - بورتوروكو - جنوب كوبا - جاميكا
		جزيرة ترينداد - فينزويلا - شاهد اندفاع الماء من خليج مصب نهر اورنيوكو
		وصل الى ساحل امريكا الوسطى



١) اسم الرحالة ----- اسم الملك الذي احتضن الرحلة -----

٢) خط سير الرحلة -----

٣) اهم الانجازات -----

٤) كيفية مصرعه -----

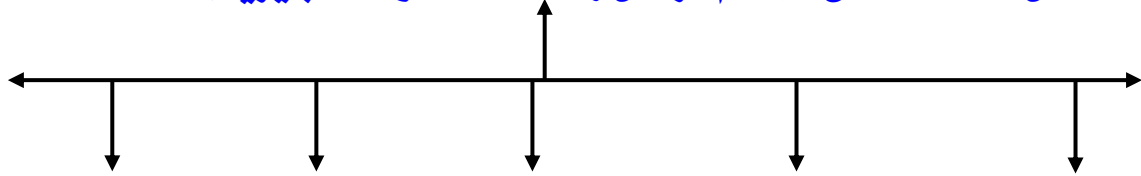
٥) الدور الذي قام به جون سبستيان دل كانو -----

٦) علل تسمية الفلبين بهذا الاسم -----

رحلات الكشوف الانجليزية

افتح الكتاب المدرسى من ص ٣٧ - حتى ص ٣٩ - ثم اجب عن هذه الاسئلة التالية :

ثانياً : أكمل المخطط التالى : (اهم مراحل رحلات الكشوف الانجليزية)



ثالثاً : أمامك خريطة لإحدى رحلات الكشوف الجغرافية لاحظها جيداً ، ثم اجب عن الاسئلة التالية

✽ اسم الرحالة -----

✽ الجنسية الاصلية -----

✽ اسم الملك الذى احتضن الرحلة -----

✽ الدولة راعية الرحلة -----

اهم الانجازات

ثالثاً : أمامك خريطة لإحدى رحلات الكشوف الجغرافية لاحظها جيداً ، ثم اجب عن الاسئلة التالية

✽ اسم الرحلة -----

✽ الجنسية الاصلية -----

✽ الدولة راعية الرحلة -----

اهم الانجازات

رابعاً : أمامك خريطة لإحدى رحلات الكشوف الجغرافية لاحظها جيداً ، ثم اجب عن الاسئلة التالية

✽ اسم الرحلة -----

✽ الجنسية الاصلية -----

✽ الدولة راعية الرحلة -----

اهم الانجازات

خامساً : أمامك خريطة لإحدى رحلات الكشوف الجغرافية لاحظها جيداً ، ثم اجب عن الاسئلة التالية

✽ اسم الرحلة -----

✽ الجنسية الاصلية -----

✽ الدولة راعية الرحلة -----

اهم الانجازات

علل تسمية نهر هرسون بهذا الاسم

اكمل المدينة العملاقة التي تقع على مصب نهر هرسون تسمى (-----)

رحلات الكشوف الفرنسية

افتح الكتاب المدرسى من ص ٤٠ - حتى ص ٤١ - ثم اجب عن هذه الاسئلة التالية :

رابعا: أمامك خريطة لإحدى رحلات الكشوف الجغرافية لاحظها جيداً ، ثم اجب عن الاسئلة التالية

١) اسم الرحالة ----- ٢) اسم الملك الذى احتضن الرحلة -----

٣) الميناء الذى خرج منه -----

٤) خط سير الرحلة -----

٥) اهم الانجازات -----

٦) علل تاخر انجلترا وفرنسا عن الدخول فى ميدان الكشوف الجغرافية

١) اسم الرحلة ----- ٢) اسم النظام الذى احتضن الرحلة -----

٣) كيفية اختياره للمهمة -----

٤) اهم الانجازات -----

رابعاً : أكمل المطلوب فى الجدول التالى بوضع الكلمة المناسبة :

الرحلة	السنة	النتيجة
		وصل نيوزيلاندا والساحل الشرقى لقارة استراليا
		- اخترق مياه القطب الجنوبى المتجمد - منعه الثلج من رؤية القارة القطبية المتجمدة
		- ساحل شمال غرب امريكا الشمالية (جزرهاواى) - ساحل كندا الغربى - المحيط المتجمد الشمالى

افتح الكتاب المدرسى من ص ٤٠ - حتى ص ٤١ - ثم اجب عن هذه الاسئلة التالية :

اولاً : أكمل المطلوب فى الجدول التالى بوضع الكلمة المناسبة :



(رحلات القطب الشمالي)

الرحلة	السنة	المناطق المستكشفة
		١ - اكتشاف الارض الواقعة بين خليج هدسن ونهر كوبر ماين ٢ - انطلق فى اول رحلة استكشافية الى كندا من بحيرة اتاباسكا (هدفها الوصول للمحيط الهادى عبر المجارى المائية)
		مكتشف نهر ماكينزى - ونهر بيس - وبحيرة سيلف الكبرى
		ابحر خلال متاهة الجزر التى تقع شمالى البر الرئيسى الكندى
		قاد الحملة الاستكشافية الاولى لعبور ممر الشمال الغربى لامريكا الشمالية
		ابحر خلال متاهة الجزر ووصل للمحيط الهادى
		تمكن من الوصول الى القطب الشمالى

(رحلات القطب الجنوبى)

الرحلة	السنة	المناطق المستكشفة
		١ - قطع مسافة طويلة على ساحل انتاركتيكا ٢ - اثبت ان انتاركتيكا كتلة ضخمة مغطاة بالثلج
		الوصول الى القطب الجنوبى

ثانياً : اذكر اهمية (آثار) رحلات الكشوف الجغرافية :

١ -
٢ -
٣ -

افتح الكتاب المدرسى من ص - حتى ص - ثم اجب عن هذه الاسئلة التالية :

أولاً : (أسفرت رحلات الكشوف الجغرافية عن نتائج بالغة الاثر فى حياة الامم والشعوب)

فى ضوء هذه الحقيقة اكمل المطلوب فى الجدول التالى

اهم النتائج	وجهة المقارنة
١- تكوين امبراطوريات استعمارية ٢ - تأسيس مراكز تجارية ساحلية ٣ - انشاء الامبراطوريات الضخمة مثل a) اسبانيا (احتلال امريكا الوسطى والجنوبية - جزر الفلبين) b) اسبانيا (احتلال البرازيل - سواحل افريقيا - الهند الخليج العربى)	
١- تحويل طريق التجارة العالمى - ضعف مكانة البحر المتوسط ٢- تدفق الثروات الى اوربا - ارتفاع الاسعار بشكل ملحوظ . ٣ - قيام الصناعات الجديدة - زيادة رؤس الاموال ٤ - ظهور البورصات المالية - زيادة نشاط المصارف	
نشر المسيحية (المذهب الكاثوليكى) على يد الاسبان والبرتغاليين	
١- انماء المعرفة وتقدم بعض العلوم (جغرافيا - اجتماع - بحار - جيولوجيا) ٢- تصحيح بعض المعلومات الجغرافية . ٣ - اتساع مجال البحوث التاريخية ٤ - اختفاء بعض معالم الحضارات الوطنية القديمة ٥ - ظهور مجموعة جديدة من النجوم فى علم الفلك .	
١ - اباداة السكان الاصليين - تدمير مدن كاملة - تدمير حضارات عريقة ٢ - جلب العبيد من افريقيا - ظهور تجارة الرقيق ٣ - ظهور الطبقة الرأسمالية (البرجوازية)	

ثانياً : اختر الاجابة الصحيحة :

الشكل التوضيحي الذى امامك يمثل نظرية وضعها عالم فلكى اسمه

(جاليليو - كوبرنيكوس - أرسطوت بطليموس)

١ - زيادة اهمية البنوك بعد حركة الكشوف الجغرافية

٢ - ظهور الطبقة البرجوازية فى أوروبا بعد حركة الكشوف الجغرافية

٣ - ضعف مكانة البحر المتوسط بعد حركة الكشوف الجغرافية

٤ - زيادة رؤوس الأموال فى أوروبا بعد حركة الكشوف الجغرافية

٥ - زيادة نشاط دور المصارف بعد حركة الكشوف الجغرافية

رابعاً : أقرأ النص بعناية ثم أجب عن الاسئلة التى تليه :

(كانت الكشوف الجغرافية اكبر ما حدث فى تاريخ اوربا والعالم فى ما بين القرنين الخامس عشر والسادس عشر - حيث ساعدت فى التعرف على الكرة الارضية والتحقق من المعلومات الجغرافية تبديل أسلوب التفكير الجغرافى. كما انها كان لها الأثر السيئ على العالم الاسلامى حيث ادت إلى ضعف مكانة العالم الاسلامى وتعرض الديار الإسلامية لهجمة استعمارية شرسة .. زد على ذلك ضعف اقتصاديات الدول الاسلامية ونقل الخيرات الاسلامية للدول الاوروبية وحرمان المسلمين من المكوس الجمركية بعد قيام الاوروبيون بتخطى الوساطة التجارية الاسلامية)

١ - استخلص مفهوم من الفقرة (مع التعريف)

(التعريف)

ب) استخرج من القطعة ما يلى :

١) اهمية (آثار) رحلات الكشوف الجغرافية



(٢)

أثر الكشوف الجغرافية فى العالم الاسلامى اجتماعياً	أثر الكشوف الجغرافية فى العالم الاسلامى اقتصادياً
<hr/> <hr/> <hr/>	<hr/> <hr/> <hr/>

خامساً : ما الفرق بين كل :

آراء كوبرنيكوس فى مجال الفلك	آراء بطليموس فى مجال الفلك
-----	-----
-----	-----

افتح الكتاب المدرسى من ص ٤٩ - حتى ص ٥٠ - ثم اجب عن هذه الاسئلة التالية :

اولاً : اكتب فيما بين القوسين المدلول المناسب لكل مما يلى :

١- (-----) سيطرة دولة ما (سياسياً او اقتصادياً او عسكرياً او تكنولوجياً على

دول أخرى مع استغلال مواردها او ثرواتها لصالحها

٢- (-----) استغلال دولة قوية لدولة ضعيفة بهدف السيطرة على مواردها

الاقتصادية وموقعها الاستراتيجية والايدي العاملة فيها

٣- (-----) سيطرة دولة واحدة بعينها على اجزاء كبيرة من العالم والتحكم فى مقدراتها

ثانياً : (تعددت عوامل قيام النظام الاستعماري الاوربي)

عوامل قيام النظام الاستعماري الاوربي

وجه المقارنة	اهم الدوافع
	١- الحصول على المواد الأولية - الايدي العاملة الرخيصة ٢- تصريف المنتجات الصناعية فى أسواق المستعمرات ٣- استثمار رؤوس الاموال
	١- استغلال المواقع الاستراتيجية - لإقامة المحطات التجارية والقواعد العسكرية ٢- حماية خطوط المواصلات البحرية ٣- توفير الخدمات للسفن التجارية
	١- الزيادة السكانية الناشئة عن الثورة الصناعية ٢- الزيادة السكانية الناشئة عن تحسين الخدمات الطبية

٣ - اتباع سياسة التهجير من اوربا ٤ - التجنيد الاجبارى لسكان المستعمرات	
١ - زعم الدول الأوربية بأنها تقوم بواجب أخلاقى حضارى نحو الأمم المتخلفة ٢ - نشر المسيحية عن طريق الارساليات التبشيرية ٣ - الرغبة فى تشويه صور الاسلام الحقيقية	

ثالثاً: فند (مزاعم الدول الاستعمارية بانها تقوم بواجب اخلاقى حضارى نحو الامم المتخلفة)

افتح الكتاب المدرسى من ص ٥١ - حتى ص ٥٢ - ثم اجب عن هذه الاسئلة التالية :

أولاً : (تعددت أشكال النظام الاستعمارى الأوربى وكان لكل شكل خصائص خاصة به)

فى ضوء هذه الحقيقة أكمل المطلوب فى الجدول التالى:

أشكال الإستعمار الأوربى

الشكل الاستعماري	التعريف	مثال
الغزو العسكري		١ - ٢ - ----- -----
	هجرة مجموعة من سكان دولة قوية الى دولة ضعيفة ثم التملك وطرده السكان الاصليين (الهجرة على شكل ارساليات تنصيرية - تجار - سياح)	١ - ٢ - ----- -----
	عقد معاهدة حماية بين دول أوربية ودولة ضعيفة تحت ستار من الحجج والاسباب	١ - انجلترا - منطقة الخليج ٢ - فرنسا - تونس

ومراكش		
١ - ٢ - -----	----- -----	الاتحاد ب
الصومال تحت وصاية ايطاليا نامبيا تحت وصايا جنوب افريقيا	اسلوب استعماري ظهر بعد الحرب العالمية الثانية عام ١٩٤٥ م بوضع المناطق التابعة للدول المهزومة تحت وصاية الدول المنتصرة	
١ - ٢ - -----	----- -----	التمييز العنصر ي

ثانياً : علل (كانت افريقيا هي أكثر قارات العالم تعرضاً للاستعمار)

افتح الكتاب المدرسي من ص ٥٣ - ثم اجب عن هذه الاسئلة التالية :

اولاً : اكتب فيما بين القوسين المدلول المناسب لكل مما يلي :

١ - (-----) أول الشعوب الأوروبية التي قامت بتأسيس إمبراطورية استعمارية فيما وراء البحار

٢ - (-----) حاكم الهند الذي عقد معاهدة تجارية مع البرتغاليين عام ١٤٩٨ م

٣ - (-----) اللقب الذي لقب به حاكم الهند الزامرين

٤ - (-----) البحار البرتغالي الذي احتل جزيرة سوقطرة عام ١٥٠٦ م ومسقط وهرمز ١٥٠٧ م

٥ - (-----) المدينة التي يطلق عليها مفتاح الخليج العربي

٦- (-----) عاصمة الممتلكات البرتغالية فى الشرق

٧- (-----) المدينة العربية التى فشل البرتغاليين فى الاستيلاء عليها عام ١٥١٠ م

٨- (-----) الملك الاسبانى الذى ضم البرتغال للتاج الاسبانى عام ١٥٨٠ م

٩- (-----) عدد السنوات انضمت فيها البرتغال للتاج الاسبانى بعد عام ١٥٨٠ م

ثانياً (البرتغاليون هم أول الشعوب الأوروبية التى قامت بتأسيس إمبراطورية استعمارية فيما وراء البحار)

فى ضوء هذه الحقيقة أكمل المطلوب فى الجدول التالى

اهم المناطق التى استعمروها	أهم العوامل التى ساعدت البرتغاليين على تأسيس إمبراطوريتهم	أسباب إنهاء الإمبراطورية البرتغالية فى الشرق
(١) -----	(١) -----	(١) -----
(٢) -----	(٢) -----	(٢) -----
(٣) -----	(٣) -----	(٣) -----
(٤) -----	(٤) -----	(٤) -----
-----	-----	-----

ثالثاً : علل (عقد معاهدة تجارية بين البرتغاليين وحاكم الهند الزامرين (سيد البحار) عام ١٤٩٨ م

افتح الكتاب المدرسى من ص ٥٤ - ثم اجب عن هذه الاسئلة التالية :

اولاً : اكتب فيما بين القوسين المدلول المناسب لكل مما يلى :

١- (-----) منطقة اتخذها الاسبان مقراً لهم فى جزر الهند الغربية والأمريكيتين وجزر

الأنтил

٢- (-----) منطقة اهتم الاسبان فيها بالبحث عن الذهب والفضة

٣- (-----) حضارة أصلية أكتشفها الاسبان فى جنوب المكسيك

٤- (-----) حضارة أصلية أكتشفها الاسبان فى المكسيك

٥- (-----) حضارة أصلية أكتشفها الاسبان فى بيرو

٦- (-----) اصطلاح اطلق على الأسطول الاسبانى

٧- (-----) العام الذي تحطم فيه الأسطول الإسباني (الأرمادا)

٨- (-----) الدولة التي قامت بتحطم الأسطول الإسباني (الأرمادا) عام ١٥٨٨ م

٩- (-----) الدولة التي قامت بتحطم الأسطول الإسباني (الأرمادا) عام ١٦٠٧ م

ثانياً : علل ١- (تسمية الفلبين بهذا الاسم)

علل ٢- (عدم سيطرة أسبانيا على البرازيل)

أولاً (الأسبان هم ثانی الشعوب الأوروبية التي قامت بتأسيس إمبراطورية استعمارية فيما وراء البحار)

في ضوء هذه الحقيقة أكمل المطلوب في الجدول التالي

أهم المناطق التي استعمروها	أهم مكاسب أسبانيا من المستعمرات (١) (٢)	أسباب إنهاء الإمبراطورية الأسبانية
(١)	أهم أعمال أسبانيا في المستعمرات (١)	(١)
(٢)	(٢)	(٢)
(٣)	(٣)	(٣)
(٤)	(٤)	(٤)

الأستعمار الهولندي

افتح الكتاب المدرسي من ص ٥٥ - ثم اجب عن هذه الاسئلة التالية :

أولاً : اكتب فيما بين القوسين المدلول المناسب لكل مما يلي :

١- (-----) الإمبراطور الأسباني الذي ورث حكم هولندا وسمح للهولنديين بالتجارة في

المستعمرات الأسبانية في القرن السادس عشر

٢- (-----) الدولة التي قامت بتحطم الأسطول الإسباني (الأرمادا) عام ١٦٠٧ م

٣- (-----) الشركة التي أسسها الهولنديون في الهند عام ١٦٠٢ م

٤- (-----) المحصول الذى احتكر الهولنديون تجارته فى القرن السابع عشر

٥- (-----) المدينة اليمينية التى نزل بها الهولنديون ونقلوا منها البن إلى أوروبا عام ١٦١٦ م

٦- (-----) المدينة التى أنشأ بها الهولنديون محطة تجارية لهم

٧- (-----) المنطقة التى أنشأ بها الهولنديون محطة تجارية وكانت بداية للصراع مع الانجليز

ثانياً : علل ١- (قيام الهولنديين بالثورة ضد الحكم الأسباني عام ١٥٧٩)

علل ٢- (أنشاء الهولنديين محطة تجارية لهم فى رأس الرجاء الصالح)

ثالثاً : اذكر : أسباب إنهيار الإمبراطورية الهولندية

(١)

(٢)

(٣)

(٤)

افتح الكتاب المدرسى من ص ٥٥ - ثم اجب عن هذه الاسئلة التالية :

اولاً : اكتب فيما بين القوسين المدلول المناسب لكل مما يلى :

١- (-----) العام الذى أسس فيه الفرنسيين شركة الهند الشرقية الفرنسية

٢- (-----) الملك الفرنسى الذى شجع تأسيس شركة الهند الشرقية الفرنسية

٣- (-----) الاسم الذى اطلق قديماً على الهند

٤- (-----) حرب قامت بين انجلترا وفرنسا بين عامى (١٧٥٦ - ١٧٦٣ م)

ثانياً : أذكر أهم المناطق التى استعمرها الفرنسيون

١- الهند (-----)

٢- أمريكا الشمالية (-----)

ثالثاً : اذكر العوامل التي ساعدت الفرنسيين على نجاحهم في الهند

(١)

(٢)

ثالثاً : علل (١) (الصدام المستمر والحروب والصراعات بين الانجليز والفرنسيين)

(الأستعمار الإنجليزي)

افتح الكتاب المدرسى من ص ٥٥ - ثم اجب عن هذه الاسئلة التالية :

اولاً : اكتب فيما بين القوسين المدلول المناسب لكل مما يلى :

١ - (-----) أول ميناء أبحر منه الإنجليز نحو إفريقيا الغربية القرن ١٦ م

٢ - (-----) الملاح الإنجليزي الذى تم تكليفه بالإبحار نحو العالم الجديد

٣ - (-----) المنطقة التى وصل إليها حون كابوت فى العالم الجديد.

٤ - (-----) الملكة الإنجليزية التى تم فى عهدها تأسيس مستعمرة فرجينيا

٥ - (-----) اول مستعمرة إنجليزية تم تأسيسها فى العالم الجديد

٦ - (-----) العام الميلادى التى تم فيه تأسيس مستعمرة فرجينيا

٧ - (-----) عدد المستعمرات التى تم تأسيسها فى أمريكا الشمالية

٨ - (-----) المناطق الهندية التى اسس فيها الانجليز مراكز لهم

٩ - (-----) و (-----) منطقتان نزل بهم الانجليز فى امريكا الوسطى

ثانياً : علل ١ - (تركيز الانجليز اهتمامهم الاستعمارى على الهند)

افتح الكتاب المدرسى من ص ٥٦ - ثم اجب عن هذه الاسئلة التالية :

اولاً : اكتب المدلول المناسب :

(-----) التجارة التى عمل بها الروس بعد اخضاع سيبيريا عام ١٥٧٨ م

ثانياً : اذكر أهم المناطق التى استعمرها الروس

ثانيا : (ولد الإستعمار عند الأوربيين حاجات جديدة)

فى ضوء هذه الحقيقة اكمل المطلوب فى الجدول

متطلبات الاستعمار الجديدة	متطلبات الاستعمار القديمة
----- -----	----- -----

ثالثاً: اكتب فيما بين القوسين المدلول المناسب لكل مما يلي :

١- (-----) هو نظام وضعه الاستعمار يتضمن ما يلي

- ١) يجب على المستعمرة الاتتاجر إلا مع البلد المستعمر
- ٢) يجب على المستعمرة أن تتدخر للبلد المستعمر كل المحاصيل
- ٣) يجب على المستعمرة أن تتدخر للبلد المستعمر كل ما هو ضروري للصناعة
- ٤) يجب على المستعمرة الاتنشئ صناعات منافسة للبلد المستعمر
- ٥) يجب على المستعمرة البيع للمستعمر بسعر رخيص

رابعاً (كان للاستعمار آثاراً سلبية وأخرى ايجابية)

آثار الاستعمار السلبية	آثار الاستعمار الإيجابية
----- ----- ----- ----- -----	----- ----- ----- ----- -----

افتح الكتاب المدرسي من ص ٦١ - ثم اجب عن هذه الاسئلة التالية :

أولاً : اكتب ما تعرفه عن

(شكل الإقتصاد الأوربي قبل قيام الثورة الصناعية)

----- ❁

----- ❁

----- ❁

ثانياً : علل

(تغير شكل الإقتصاد الأوربي بعد قيام الثورة الصناعية)



ثالثاً : عرف المقصود بالثورة الصناعية



رابعاً : (يدخل فى تعريف الثورة الصناعية مجموعة من المصطلحات المعروفة فى علم الاقتصاد)

فى ضوء هذه الحقيقة اكمل المطلوب فى الجدول التالى

المفهوم	التعريف
اداة	
إنتاج	
تمويل	
تسويق	
توزيع	

افتح الكتاب المدرسى من ص ٦٣ - ثم اجب عن هذه الاسئلة التالية :

أولاً : أذكر العوامل التى ساعدت على قيام الثورة الصناعية فى انجلترا





ثانياً : علل لكل مما يأتى تعليلاً تاريخياً :

١ - الاستقرار الداخلى فى انجلترا بعد عام ١٦٨٩ م

٢ - وفرة رأس المال فى انجلترا قبيل الثورة الصناعية

٣ - سهولة الحصول على المواد الخام فى انجلترا قبيل الثورة الصناعية

٤ - توافر القوى المحركة فى انجلترا قبيل الثورة الصناعية

٥ - سهولة عملية نقل المواد الخام لانجلترا قبيل الثورة الصناعية

افتح الكتاب المدرسي من ص ٦٣ - حتى ص ٦٨ - ثم اجب عن هذه الاسئلة التالية :

أولاً : (ساهمت الثورة الصناعية فى ظهور الكثير من المخترعات)

فى ضوء هذه الحقيقة اكمل المطلوب فى الجدول التالى

١) مجال صناعة المنسوجات

العالم	الاختراع	أثر الاختراع
جون كى
جيمس هارجريفز
ريتشارد أركرايت

٢) مجال صناعة الآلات

العالم	الاختراع	أثر الاختراع
توماس نيوكمان
جيمس وات

٣) مجال التعدين

العالم	الاختراع	أثر الاختراع
هنرى بيسمر

٤ (مجال صناعة

العالم	الاختراع	أثر الاختراع
روبرت فولتن
جورج ستيفنز
نيقولا أوتو
ديلمر وينز
رودلف ديزل

٥ (مجال صناعة الطيران

العالم	الاختراع	أثر الاختراع
بلانشارد
الإخوان رايت

٦ (مجال صناعة الكهرباء

العالم	الاختراع	أثر الاختراع
أليساندرو فولتا
مايكل فاراداي
توماس ادیسون

٧ (مجال صناعة الاتصال والمواصلات

العالم	الاختراع	أثر الاختراع
صمويل موريس
وليم ماركوني
جراهام بل

افتح الكتاب المدرسى من ص ٦٩ - ثم اجب عن هذه الاسئلة التالية :

أولاً : أذكر نتائج الثورة الصناعية

أولاً : النتائج الاقتصادية للثورة الصناعية

١.
٢.
٣.
٤.
٥.
٦.

ثانياً : النتائج الاجتماعية للثورة الصناعية

١.
٢.
٣.
-

ثالثاً : النتائج السياسية للثورة الصناعية

١.
٢.
٣.
-